

Adición y sustracción

Nombre: _____

Grado: _____ Fecha: _____


1 Con los números de las tarjetas realiza tres adiciones y tres sustracciones.

234.567.000

345.001

345.607

346.870.021







2 Resuelve las operaciones.

$$\begin{array}{r} 2.873.567 \\ + 326.584 \\ \hline \end{array}$$

$$\begin{array}{r} 7.900.001 \\ - 4.699.840 \\ \hline \end{array}$$

$$\begin{array}{r} 29.299.849 \\ + 9.887.356 \\ \hline \end{array}$$

$$\begin{array}{r} 48.660.015 \\ - 9.595.846 \\ \hline \end{array}$$



3 Completa las siguientes adiciones.

• $23.048 + \square = 32.093$

• $\square + 2.506 = 5.000$

• $\square + 45.003 = 52.021$

• $9.003 + \square = 10.000$

4 Escribe las cifras que faltan en cada operación.

3	4	7	6	8	□	9	
□	3	□	9	0	7	□	
+	□	5	□	2	8	1	
<hr/>							
5	2	9	3	□	6	2	

	4	5	6	□	8	9	0	0
	□	5	6	□	0	0	□	
+			1	5	□	9	6	
<hr/>								
	4	9	□	6	2	7	□	4

□	8	□	8	9	□	3	7
-	2	8	7	□	1	1	□
<hr/>							
1	□	7	□	6	1	□	8

	9	8	□	5	0	□	2
-	6	8	2	□	0	9	7
<hr/>							
	□	□	□	3	□	4	□