

Desigualdades













Nombre: _____

Grado: _____ Fecha: _____

1 Compara y escribe $<$, $=$ o $>$ según corresponda.

- $125 \square 152$
- $1.528 \square 1.528$
- $45 \times 3 \square 12 \times 11$
- $2 \times 7 + 18 \square 2 \times 14$
- $66 \square 70$
- $24 + 8 \square 24 - 3$
- $2 \times 99 \square 2 \times 100 - 2 \times 1$
- $12 \times 5 \square 11 \times 6$

2 Une, con una línea, cada expresión con el número que le corresponde.

- Un número menor que 13 y mayor que 11.   22
- Un número mayor que 19 y menor que 21.   12
- Un número menor que 15 y mayor que 13.   20
- Un número mayor que 25 y menor que 30.   18
- Un número menor que 19 y mayor que 17.   14
- Un número mayor que 21 y menor que 25.   26

3 Completa, escribiendo un número que cumple la desigualdad.

- $\square > 17$
- $9 < \square$
- $\square < 7 + 8$
- $\square < 28$
- $\square > 10 \times 2$
- $\square > 24 \div 2$